

Augen auf im Verkehr!


Welche von diesen Verkehrszeichen legen fest, dass **andere** Fahrzeuge Vorfahrt haben?



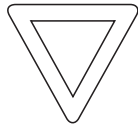











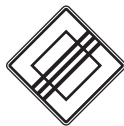


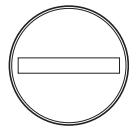






Du fährst mit dem Fahrrad. Bei welchem Zeichen darfst du nicht weiterfahren?









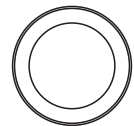












Welches dieser Verkehrszeichen verbietet etwas?



