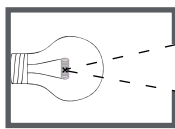
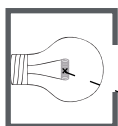
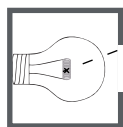


Bei mehreren Lichtquellen gibt es verschiedene Beleuchtungszustände, die als „Licht“, „Halbschatten“ und „Kernschatten“ bezeichnet werden.



Das Licht der Lampe fällt auf ein Hindernis.
Zeichne den Schatten ein.



Zeichne die Randstrahlen von jeder Lichtquelle zum Hindernis ein.

Kennzeichne „Licht - Halbschatten - Kernschatten“.

Male die Zeichnung an.

